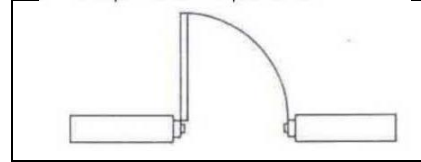


برنامج هندسة العمارة المستدامة
اختبار قدرات معمارية
(ساعة واحدة)

• لا بد من الإجابة على جميع الأسئلة بعمل دائرة حول رقم الإجابة الصحيح في نفس ورقة الأسئلة

- 1- الأرقام الرصاص دائما يكون عليها رمز H & B فلما يرمز H
(A) ثقيل
(B) صلب
(C) بطل
(D) ولا إجابة مما سبق

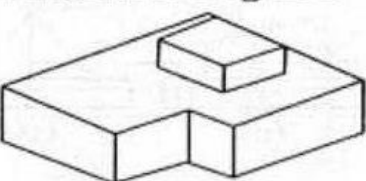
2- الصورة التالية هي رمز :



- (أ) باب
(ب) شباك
(ت) لوحة سوداء
(ث) لوحة عرض

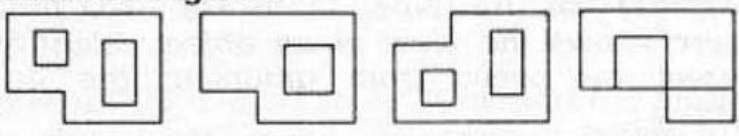
3- الشكل التالي به مجسم ثلاثي الأبعاد، المطلوب أي من الأشكال a,b,c,d تمثل مسقط للشكل ثلاثي الأبعاد

Problem Figure



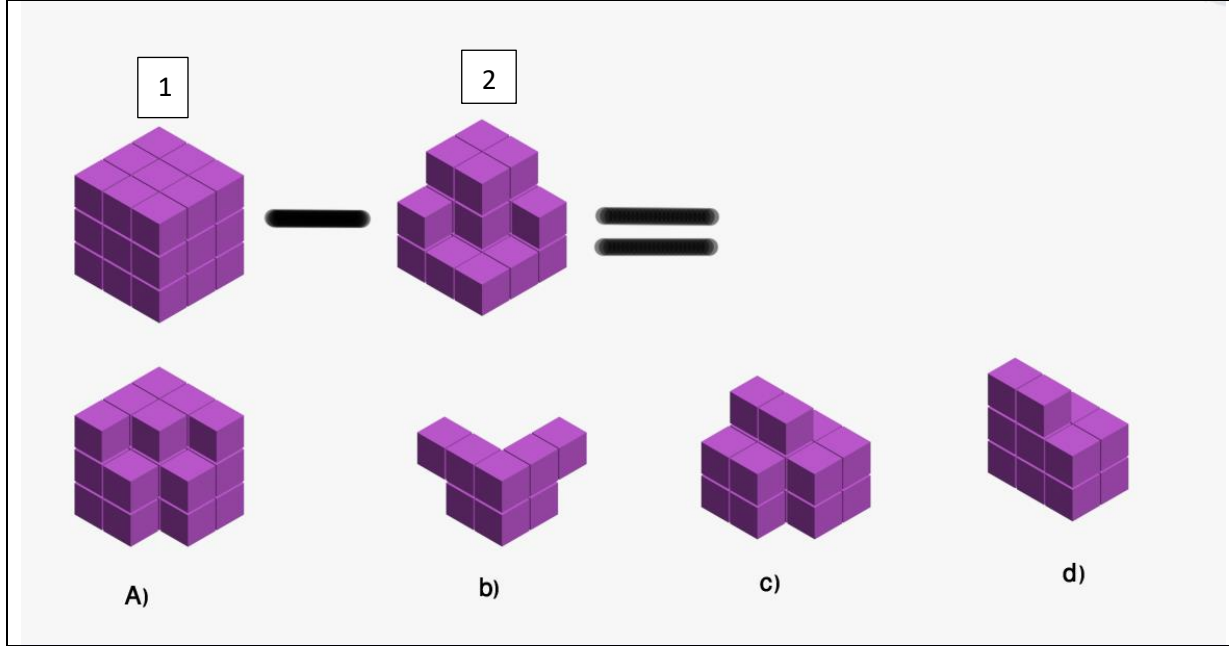
Answer Figures

(a) (b) (c) (d)



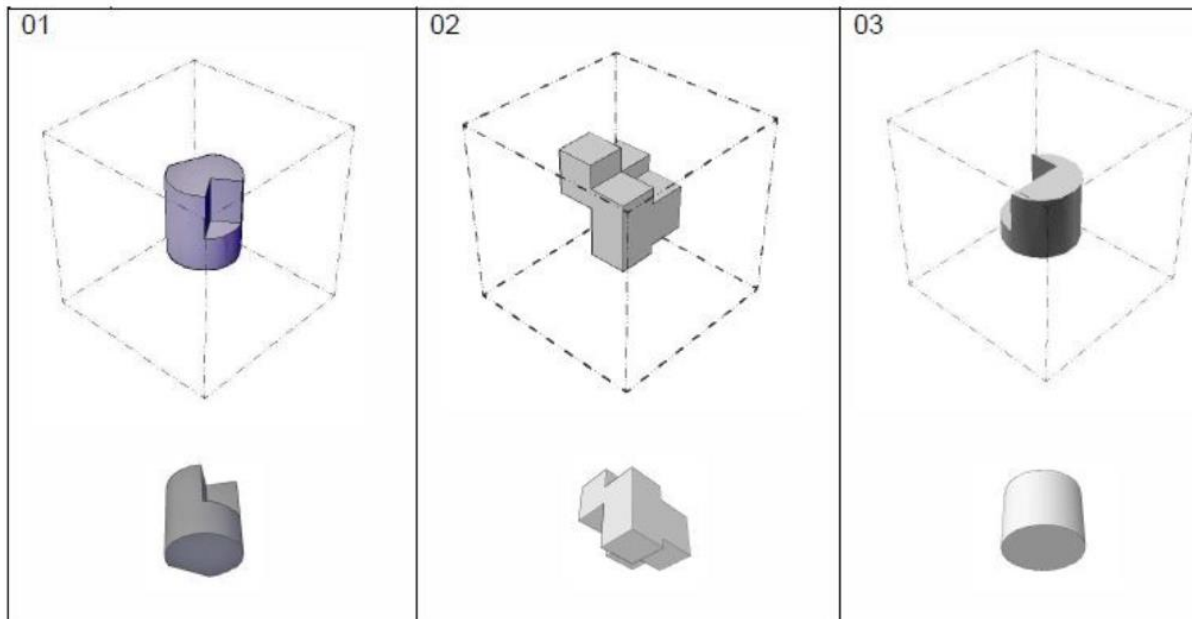
برنامج هندسة العمارة المستدامة
اختبار قدرات معمارية
(ساعة واحدة)

4- اختار من بين الإجابات الشكل الناتج عن طرح المجسم 2 من المجسم 1



5- الصورة الموضحة هي لمجسم في وسط صندوق زجاجي، وتحتة صورة جديدة لنفس المجسم من زاوية مختلفة والمطلوب:

- انظر للصورة الجديدة المأخوذة للمجسم من الزاوية المختلفة
- تخيل أنك تدور حول الصندوق الزجاجي واختار أي من أركان الصندوق الزجاجي أخذت الصورة الجديدة.
- ارسم دائرة حول الزاوية التي أخذت منها الصورة الجديدة.



برنامج هندسة العمارة المستدامة
اختبار قدرات معمارية
(ساعة واحدة)

- 6- ارسم مستخدماً القلم الرصاص فقط منظور داخلي لغرفة معيشة او غرفة نوم.
أ. تستطيع الرسم بأي نوع من المناظير نقطة تلاشي واحدة أو اثنين.
ب. استخدم القلم الرصاص في رسم الظلال في المنظور.